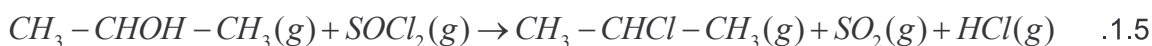
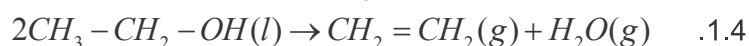
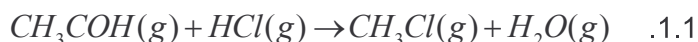


التمرين 03

1. بالنسبة لكل من المعادلات التالية، حدد هل التفاعل الموافق هو من نوع :
إزالة ماء ، استبدال ، أكسدة معتدلة أو احتراق :



2. بالنسبة لكل من المعادلات التالية ، حدد المجموعة التي تنتمي إليها المتفاعلات والتي تنتمي إليها النواتج ، هل التفاعل الموافق إزالة ماء ، استبدال ، أو أكسدة . حدد المركبات A ، B ، C :

